

平成 29 年度 学 力 検 査

C 社 会 (11 時 30 分～12 時 15 分, 45 分間)

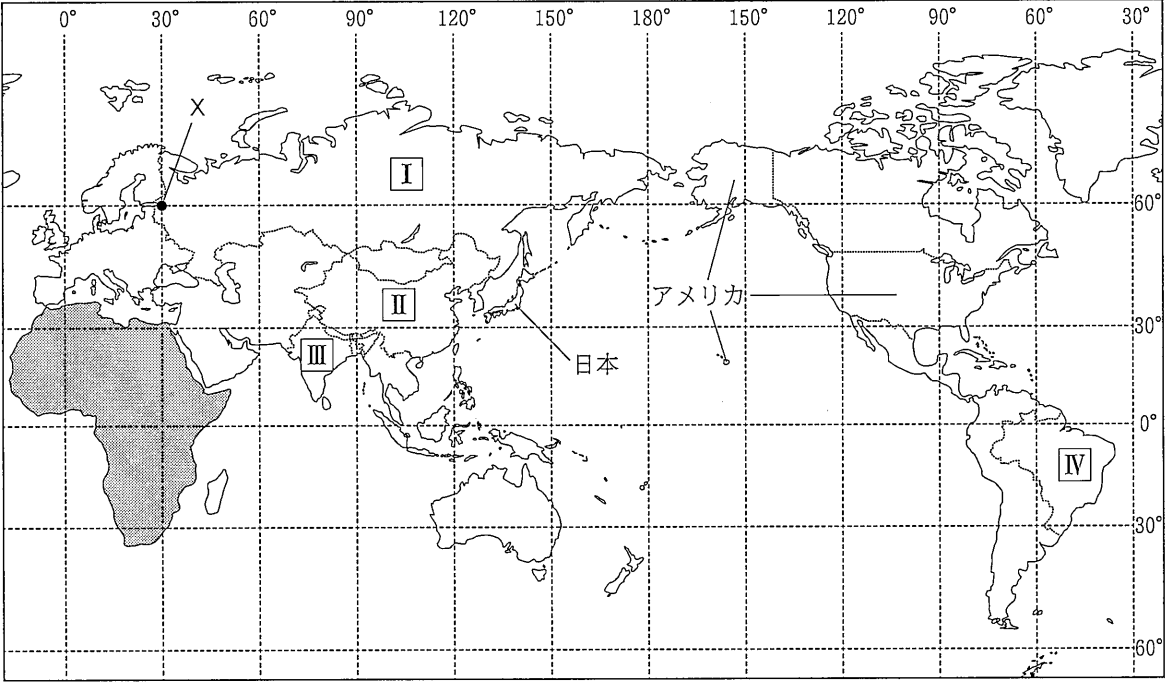
問 題 用 紙

注 意

1. 「開始」の合図があるまで開いてはいけません。
2. 答えは、すべて解答用紙に書きなさい。
3. 問題は、 から までで、10 ページにわたって印刷してあります。
4. 「開始」の合図で、解答用紙の決められた欄に受験番号を書きなさい。
5. 問題を読むとき、声を出してはいけません。
6. 「終了」の合図で、すぐに筆記用具を置きなさい。

1 いせん
緯線と経線が直角に交った次の略地図を見て、あとの各問いに答えなさい。(9点)

〈略地図〉



〔注：国境は一部省略。国境については、確定していないところもある。〕〔世界国勢図会 2015/16〕ほかから作成

(1) 略地図に X で示した地点を、緯度と経度で表すとどうなるか、次のア～エから最も適当なものを1つ選び、その記号を書きなさい。

- 〔ア. 北緯 30 度, 東経 60 度 イ. 北緯 30 度, 西経 60 度〕
- 〔ウ. 北緯 60 度, 東経 30 度 エ. 北緯 60 度, 西経 30 度〕

(2) 資料 1 は、略地図に示した日本の東京を中心にした、中心からの距離と方位が正しい地図を示したものである。資料 1 の東京から真東に進むと、最初にたどりつく大陸の名称はどれか、次のア～エから最も適当なものを1つ選び、その記号を書きなさい。

〈資料 1〉



- 〔ア. 北アメリカ大陸 イ. 南アメリカ大陸〕
- 〔ウ. ユーラシア大陸 エ. オーストラリア大陸〕

〔注：国境は省略。〕〔世界国勢図会 2015/16〕ほかから作成

(3) 資料 2 は、略地図に **I** ～ **IV** で示した国について、人口、人口密度、日本への輸出額上位 3 品目を示したものである。**I** で示した国にあてはまるものはどれか、資料 2 のア～エから最も適当なものを1つ選び、その記号を書きなさい。

〈資料 2〉

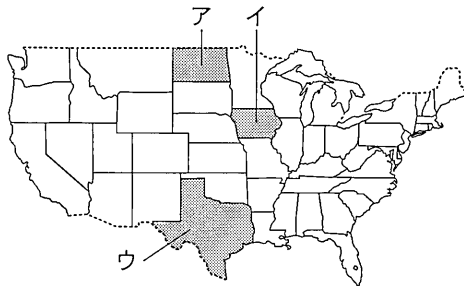
	人口 (千人)	人口密度 (人/km ²)	日本への輸出額上位 3 品目
ア	1,376,049	143	機械類, 衣類, 金属製品
イ	1,311,051	399	石油製品, 有機化合物, 魚介類
ウ	207,848	24	鉄鉱石, 肉類, コーヒー
エ	143,457	8	原油, 液化天然ガス, 石炭

〔注：人口、日本への輸出額上位 3 品目は 2015 年のもの。人口密度は、2015 年の人口と 2014 年の面積で算出したもの。〕

〔日本国勢図会 2016/17〕ほかから作成

- (4) 資料3は、略地図に示したアメリカで、農業のさかんな州のうち、3つの州をア～ウで示したものの、資料4は、資料3で示したア～ウの各州における、とうもろこし、小麦、綿花の生産量を示したものである。資料4のA～Cには、資料3で示したア～ウのどれがあてはまるか、資料3で示したア～ウからそれぞれ1つずつ選び、その記号を書きなさい。

〈資料3〉




〔注：略地図に示したアメリカの一部である。〕
〔「世界国勢図会 2015/16」ほかから作成〕

〈資料4〉

	とうもろこし (万トン)	小麦 (万トン)	綿花 (万トン)
A	6,013	2	—
B	797	945	—
C	748	184	131

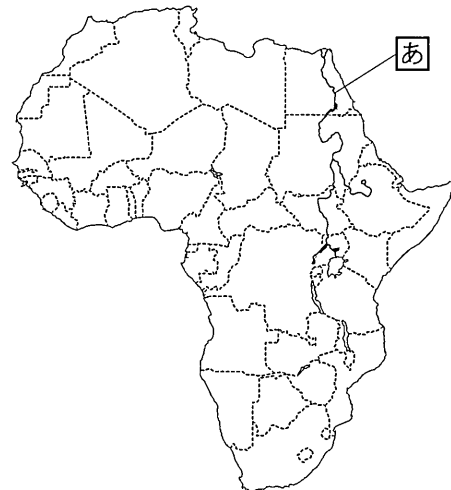
〔注：数値は2014年のもの。〕
〔「データブック・オブ・ザ・ワールド 2016」ほかから作成〕

- (5) 資料5は、略地図に  で示した大陸の拡大図である。これを見て、次の(a)～(c)の各問いに答えなさい。

- (a) 資料5に **あ** で示した川は世界最長で、その沿岸では水が得やすいため人口が集中し、農地や都市が広がっている。**あ** で示した川の名前はどれか、次のア～エから最も適当なものを1つ選び、その記号を書きなさい。

- | | |
|-----------|----------|
| 〔ア. ナイル川 | イ. メコン川〕 |
| 〔ウ. アマゾン川 | エ. ライン川〕 |

〈資料5〉



〔注：国境は一部省略。国境については、確定していないところもある。〕

〔「世界国勢図会 2015/16」ほかから作成〕

- (b) 資料5に示した大陸には、人口増加などを背景に、ゆきすぎた森林の伐採や放牧などによって、樹木や草原が失われてきている地域がある。このような人間の活動などによって、植物が生えていた土地が、草も育たないやせた土地になることを何というか、書きなさい。
- (c) 資料5に示した大陸には、国境線の一部が緯線や経線を利用して直線で引かれた国が見られる。このように、国境線の一部が直線で引かれているのはなぜか、その理由の1つとして考えられることを、資料5に示した大陸の歴史的背景にふれて、「独立」という言葉を用いて、書きなさい。

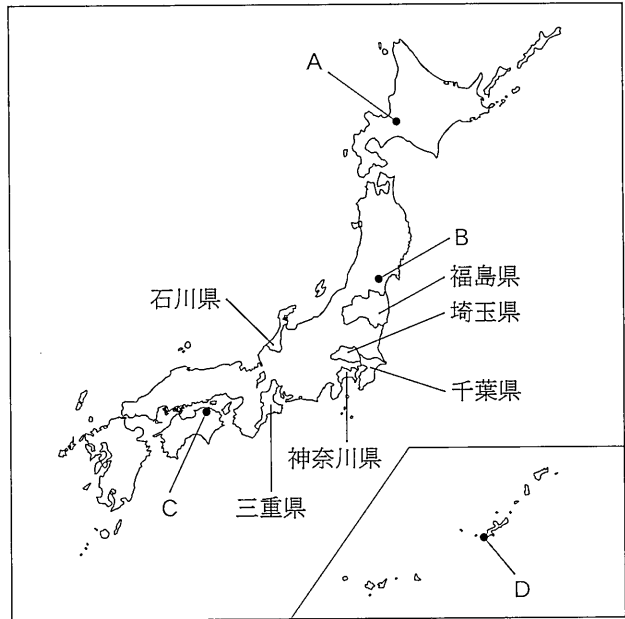
次のページへ→

2 次の略地図を見て、あとの各問いに答えなさい。(9点)

(1) 略地図に示した福島県は、6つの県 (略地図)

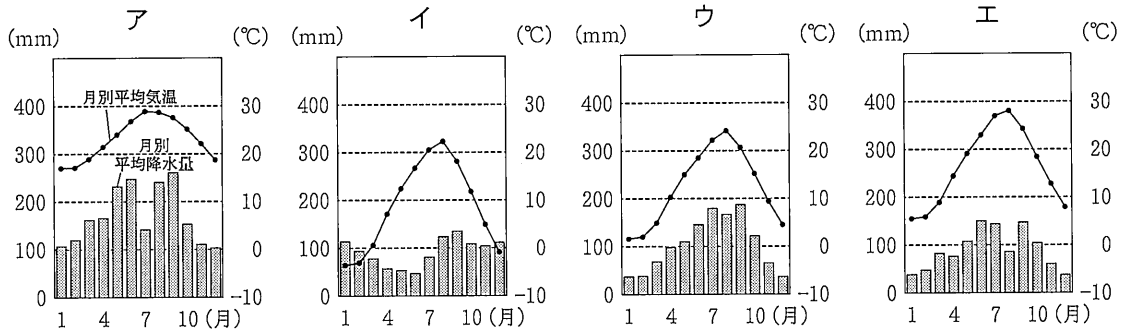
と接している。福島県が接している6つの県のうち、福島県と同じ東北地方に属する県はいくつあるか、次のア～エから最も適当なものを1つ選び、その記号を書きなさい。

- 〔ア. 1県 イ. 2県〕
〔ウ. 3県 エ. 4県〕



(〔日本国勢図会 2016/17〕ほかから作成)

(2) 次のア～エのグラフは、それぞれ略地図にA～Dで示したいずれかの都市における雨温図である。略地図にCで示した都市の雨温図はどれか、次のア～エから最も適当なものを1つ選び、その記号を書きなさい。



(〔理科年表 平成 27 年〕から作成)

(3) 資料1は、略地図に示した千葉県、埼玉県、神奈川県および全国における農業産出額と、農業産出額に占める品目の割合を示したものである。千葉県、埼玉県、神奈川県の農業産出額に占める野菜の割合が、全国の農業産出額に占める野菜の割合と比べて高いのはなぜか、その理由の1つとして考えられることを、「消費量」と「新鮮」という2つの言葉を用いて、書きなさい。

〈資料1〉

	農業産出額 (億円)	農業産出額に占める品目の割合 (%)		
		米	野菜	その他
千葉県	4,141	17.1	40.7	42.2
埼玉県	2,012	20.0	50.9	29.1
神奈川県	804	5.0	55.2	39.8
全国	85,748	20.8	26.3	52.9



(注：数値は2013年のもの。)

(〔データブック・オブ・ザ・ワールド 2016〕ほかから作成)

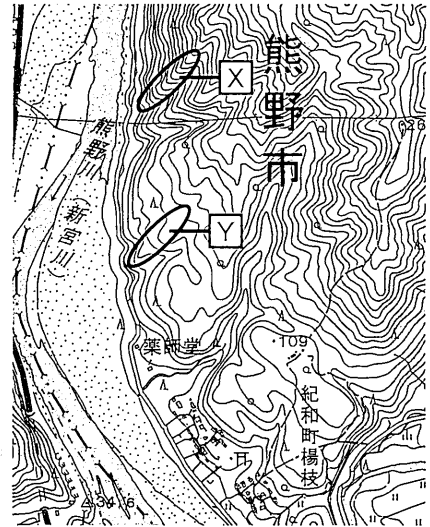
(4) 資料 2 は、略地図に示した三重県の県境付近の一部を示した地形図である。これを見て、次の(a), (b)の各問いに答えなさい。

(a) 資料 2 に見られる A は何を表す地図記号か、次のア～エから最も適当なものを 1 つ選び、その記号を書きなさい。

- | | |
|---------|---------|
| ア. 畑 | イ. 田 |
| ウ. 針葉樹林 | エ. 広葉樹林 |

(b) 資料 2 に  で示した X と  の 2 か所の斜面を比べると、傾斜が急であるといえるのはどちらか、その記号を書きなさい。また、そのように判断した理由を、書きなさい。

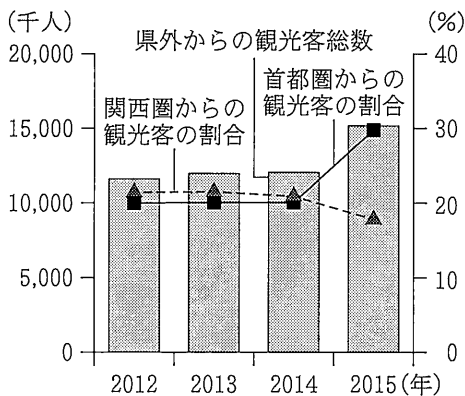
〈資料 2〉



(国土地理院 2 万 5 千分の 1 地形図)
平成 26 年調製[本宮]から作成

(5) 資料 3 は、略地図に示した石川県における県外からの観光客総数と、県外からの観光客総数に占める首都圏と関西圏からの観光客の割合の推移を示したものである。また、資料 4 は、はるひさんが、新幹線開業状況についてまとめたものの一部、資料 5 は、はるひさんが、東京駅・金沢駅間と大阪駅・金沢駅間の鉄道路線における、2015 年 3 月 13 日と 2015 年 3 月 14 日の最短所要時間についてまとめたものである。資料 3 に示したように、2015 年に、首都圏からの観光客の割合が関西圏からの観光客の割合と比べて大幅に増加したのはなぜか、その理由の 1 つとして考えられることを、資料 4、資料 5 から読み取れることにふれて、書きなさい。

〈資料 3〉



〔注：首都圏は東京都，神奈川県，千葉県，埼玉県，群馬県，栃木県，茨城県を，関西圏は大阪府，京都府，兵庫県，和歌山県，奈良県，滋賀県を指す。〕

(石川県 Web ページほかから作成)

〈資料 4〉

2015 年 3 月 14 日	ほくりく ながの 北陸新幹線の長野駅・金沢駅間開業により、すでに営業していた東京駅・長野駅間と合わせ、東京駅・金沢駅間が新幹線で結ばれた。
-----------------	--

〈資料 5〉

	2015 年 3 月 13 日	2015 年 3 月 14 日
東京駅から金沢駅まで	3 時間 51 分	2 時間 28 分
金沢駅から東京駅まで	3 時間 47 分	2 時間 28 分
大阪駅から金沢駅まで	2 時間 31 分	2 時間 31 分
金沢駅から大阪駅まで	2 時間 34 分	2 時間 34 分

(「JR 時刻表」ほかから作成)


次のページへ→

3 次のカードは、かおりさんの班が、各時代の政治や経済のようすについて、まとめたものの一部である。これを見て、あとの各問いに答えなさい。(9点)

A	^{へいじょうきやう} 平城京内には、 ^{いち} 東西2つの市が設けられ、各地の産物などが売買された。	B	^{ふじわら} 藤原氏は、 ^{せつかん} 摂関政治を行い、11世紀前半の ^{みちなが} 道長と ^{よりみち} 頼通のころ最も栄えた。
C	^{みなもとのよりとも} 源頼朝の死後、頼朝の妻 ^{ほうじょうまさこ} 北条政子の実家である北条氏が、幕府の実権をにぎった。	D	^{むらまち} 室町幕府が行った ^{かんごう} 勘合貿易は、日本の経済や文化に大きな ^{えいぎやう} 影響をあたえた。
E	16世紀の中ごろから、全国統一をめざす人物が現れ、各地で合戦が行われた。	F	1880年代以降、軽工業が発展し、日本の産業革命が進行した。

(1) カードAについて、資料1は、^{ちゆうごく}中国の王朝でつくられた^{かへい}貨幣にならって日本で作られた貨幣を示した写真である。資料1で示した貨幣が日本で作られたときの中国の王朝を何というか、その名称を書きなさい。

〈資料1〉



(2) カードBについて、藤原頼通により建てられた^{びやうどういんほうおうどう}平等院鳳凰堂を示した写真はどれか、次のア～エから最も適当なものを1つ選び、その記号を書きなさい。

ア




イ



ウ



エ



(3) カードCについて、^{やすとき}北条泰時により1232年に定められた、武士の社会で行われていた慣習をまとめ、その後の武士の政治のよりどころになった法律を何というか、その名称を書きなさい。

- 4 右の表は、たくやさんの学級で、歴史的分野の学習のまとめとして、学習内容をふり返る活動を行ったときに設定されたテーマを示したものである。これを見て、あとの各問いに答えなさい。(9点)

テーマ1	世界の古代文明
テーマ2	中世におけるヨーロッパ
テーマ3	おうべい 欧米における近代化
テーマ4	明治政府による外交政策
テーマ5	にちろ 日露戦争と国民生活
テーマ6	国際化する世界と日本

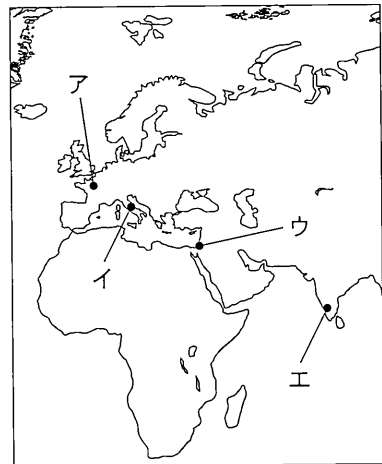
- (1) テーマ1について、資料1は、たくやさんが要点をまとめたノートの一部である。資料1の にあてはまる最も適当な言葉は何か、書きなさい。

〈資料1〉

チグリス川とユーフラテス川にはさまれた では、くさび形文字が発達し、1週間7曜制や、60進法が考え出されるなど、 文明が発展した。

- (2) テーマ2について、11世紀から13世紀にかけて、多くのヨーロッパの王や貴族は、ローマ教皇のよびかけにこたえて十字軍を編成し、エルサレムをめざした。多くのヨーロッパの王や貴族がめざしたエルサレムを示した場所はどれか、略地図に示したア～エから最も適当なものを1つ選び、その記号を書きなさい。

〈略地図〉



- (3) テーマ3について、次のA～Dのカードは、17世紀から20世紀にかけて、欧米で起こったできごとを示したものである。A～Dのカードを、書かれた内容の古いものから順に並べると、どのようになるか、その記号を書きなさい。

A ナポレオンが、皇帝の位につき、ヨーロッパを支配した。

B ワシントンが、独立戦争を指導し、初代大統領に就任した。

C レーニンが、ロシア革命を指導し、ソビエトによる政府をつくった。

D クロムウェルが、ピューリタン革命を指導し、政権をにぎった。

(4) テーマ4について、明治政府は、岩倉使節団の派遣や、鹿鳴館での舞踏会開催などの政策を行った。岩倉使節団の派遣や、鹿鳴館での舞踏会開催に共通する明治政府の政策の目的について述べた文はどれか、次のア～エから最も適当なものを1つ選び、その記号を書きなさい。

- ア. 欧米諸国と協調し、ロンドン海軍軍縮条約を結んで軍備を縮小すること。
 イ. 近隣の国々に、朱印状を持つ船の保護を依頼し、朱印船貿易を行うこと。
 ウ. 国際連盟に加盟し、国際紛争などの平和的な解決をめざすこと。
 エ. 江戸幕府が結んだ不平等条約を改正し、欧米諸国と対等な関係を築くこと。

(5) テーマ5について、資料2は、日露戦争に出兵した弟を思っ
てつくられた「君死にたまふことなかれ」の詩の一部を示したものである。資料2に示した「君死にたまふことなかれ」の作者は
だれか、書きなさい。

〈資料2〉

君死にたまふことなかれ
 ああ 弟よ 君を泣く
 君死にたまふことなかれ
 末に生まれし君なれば
 親のなさは勝りしも
 (略)

(6) テーマ6について、資料3は、日本が国際連合に加盟するまでの経緯をまとめたもの、資料4は、1952年と1956年における、国際連合安全保障理事会理事国と、日本の国際連合加盟に対する投票結果を示したものである。1952年に日本の国際連合加盟が否決されたのはなぜか、その理由の1つとして考えられることを、日本の国際連合加盟に反対した国の名称を用いて、常任理事国にあたえられた権限にふれて、書きなさい。

〈資料3〉

1951年9月	日本は、アメリカなど48か国と、サンフランシスコ平和条約を結ぶ。
1952年6月	日本は、国際連合に加盟を申請する。
1952年9月	日本の国際連合加盟が否決される。
1956年10月	日本とソ連との国交が回復する。
1956年12月	日本の国際連合加盟が可決される。

〈資料4〉

1952年		1956年	
常任理事国	非常任理事国	常任理事国	非常任理事国
アメリカ	チリ	アメリカ	キューバ
イギリス	ブラジル	イギリス	ペルー
フランス	パキスタン	フランス	オーストラリア
ソ連	ギリシャ	ソ連	ユーゴスラビア
中華民国	トルコ	中華民国	イラン
	オランダ		ベルギー
賛成10, 反対1		賛成11, 反対0	

(資料3, 資料4は、国際連合広報センター資料ほかから作成)

次のページへ→

5

右の表は、かなこさんの学級で、公民的分野の学習のまとめを発表するため、班ごとに設定されたテーマを示したものである。これを見て、あとの各問いに答えなさい。(14点)

	テーマ
A班	消費生活と経済
B班	法を守る裁判所
C班	国会のしくみ
D班	日本国憲法と基本的人権
E班	国際社会における日本
F班	政治参加と選挙

(1) A班のテーマについて、次の(a), (b)の各問いに答えなさい。

(a) 独占禁止法に基づいて設置され、独占の発生を予防したり、価格カルテルを禁止したりして、市場経済の健全な発展と消費者の利益を守ろうとしている行政機関はどれか、次のア～エから最も適当なものを1つ選び、その記号を書きなさい。

- [ア. 公聴会 イ. 運輸安全委員会 ウ. 公正取引委員会 エ. 取締役会]

(b) 資料1は、1962年にアメリカのケネディ大統領が提唱した「消費者の四つの権利」を示したものである。資料1の X, Y にあてはまる言葉の組み合わせはどれか、次のア～エから最も適当なものを1つ選び、その記号を書きなさい。

(資料1)

・ X
・ 知らされる権利
・ 選択する権利
・ Y

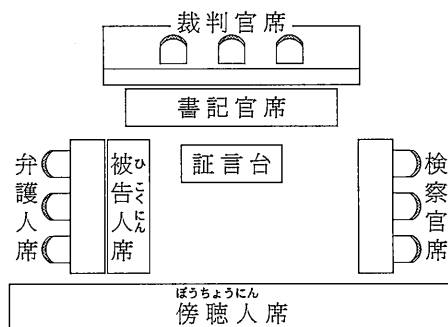
- ア. X — 安全を求める権利, Y — 意見を反映させる権利
 イ. X — 裁判を受ける権利, Y — 意見を反映させる権利
 ウ. X — 安全を求める権利, Y — 教育を受ける権利
 エ. X — 裁判を受ける権利, Y — 教育を受ける権利

(2) B班のテーマについて、次の(a), (b)の各問いに答えなさい。

(a) 裁判を慎重に行い、人権を守るため、同一の事件について3回まで裁判を受けることができるしくみを何というか、その名称を書きなさい。

(b) 資料2は、裁判が行われる法廷のようすを示したものである。資料2は、刑事裁判、民事裁判のどちらの法廷のようすを示したものが、書きなさい。また、そのように判断した理由を、書きなさい。

(資料2)



(3) C班のテーマについて、資料3は、衆議院と参議院の任期と解散の有無についてまとめたものである。国会の議決において、参議院よりも衆議院の議決を優越させているのはなぜか、資料3から読み取れることにふれて、「国民の意思」という言葉を用いて、書きなさい。

(資料3)

	任期	解散
衆議院	4年	ある
参議院	6年 (3年ごとに 半数を改選)	ない

(4) D班のテーマについて、次の(a), (b)の各問いに答えなさい。

(a) 日本国憲法が定める自由権のうち、精神の自由にあたるものはどれか、次のア～エから最も適当なものを1つ選び、その記号を書きなさい。

- 〔ア. 居住・移転と職業選択の自由 イ. 財産権の保障〕
 〔ウ. 法定の手続きの保障 エ. 学問の自由 〕

(b) 労働者は、使用者に対して弱い立場にあるため、日本国憲法において、団結権、団体交渉権、団体行動権が保障されている。日本国憲法で保障されているこれら3つの権利をあわせて何というか、その名称を書きなさい。

(5) E班のテーマについて、資料4は、日本、アメリカ、ノルウェー、スウェーデンにおける政府開発援助(ODA)額とその国民総所得に占める割合を示したものである。日本にあてはまるものはどれか、資料4のア～エから最も適当なものを1つ選び、その記号を書きなさい。

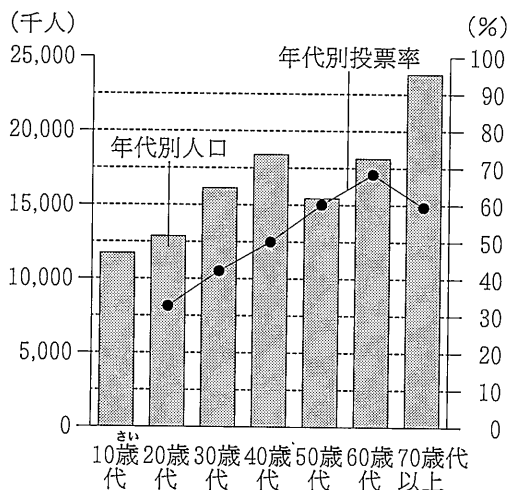
〈資料4〉

	政府開発援助額 (百万ドル)	国民総所得に 占める割合 (%)
ア	32,729	0.19
イ	9,188	0.19
ウ	6,223	1.10
エ	5,024	0.99

〔注：数値は2014年のもの。〕
 〔「世界国勢図会 2015/16」から作成〕

(6) F班のテーマについて、かなこさんは、主権者である国民の政治参加について、いくつかの資料を作成した。資料5は、2014年における日本の年代別人口と、2014年12月の衆議院議員総選挙における年代別投票率を示したもので、資料6は、公職選挙法の改正に関連する新聞記事をもとに、かなこさんが作成した資料の一部を示したものである。公職選挙法が改正されたことによって、どのようなことが期待できるか、その1つとして考えられることを、資料5、資料6から読み取れることにふれて、書きなさい。

〈資料5〉



〔注：年代別投票率は、全国から抽出して調査したものである。全体の投票率は、52.7%。〕

(総務省・文部科学省
 「私たちが拓く日本の未来」ほかから作成)

〈資料6〉

ねんれい
選挙権年齢引き下げ!

○平成27年6月17日、改正公職選挙法が成立した。

○平成28年6月19日、改正公職選挙法が施行され、18歳、19歳の若者が、有権者に加わった。