

平成 31 年度 学 力 検 査

C 社 会 (11 時 30 分～12 時 15 分, 45 分間)

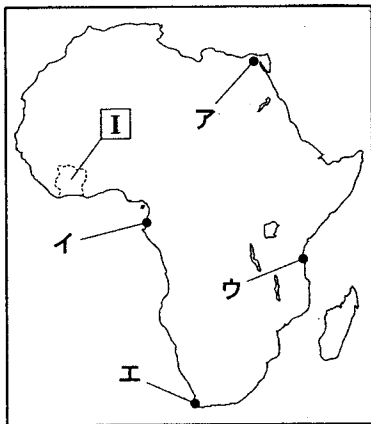
問 題 用 紙

注 意

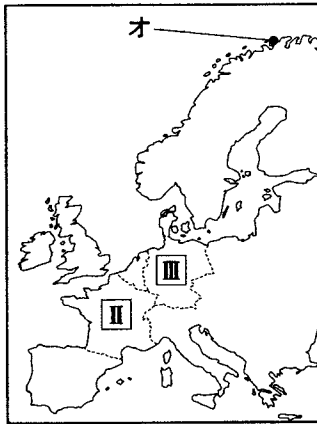
1. 「開始」の合図があるまで開いてはいけません。
2. 答えは、すべて**解答用紙**に書きなさい。
3. 問題は、**1** から **5** までで、10 ページにわたって印刷してあります。
4. 「開始」の合図で、**解答用紙**の決められた欄に**受検番号**を書きなさい。
5. 問題を読むとき、声を出してはいけません。
6. 漢字で書くように指示されている問いに「ひらがな」や「カタカナ」で解答した場合は減点となります。
7. 「終了」の合図で、すぐに筆記用具を置きなさい。

1 次の略地図1～3は、それぞれ世界の一部の地域をあらわしている。これらを見て、あとの各問いに答えなさい。(9点)

〈略地図1〉



〈略地図2〉



〈略地図3〉

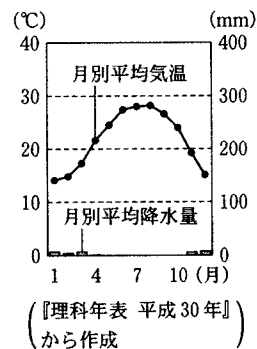


〔注：縮尺は同じではない。国境は一部省略。〕
〔『世界国勢図会 2017/18』ほかから作成〕

(1) 略地図1について、次の(a), (b)の各問いに答えなさい。

(a) 資料1は、ア～エで示したいずれかの都市における雨温図である。資料1はいずれの都市の雨温図か、ア～エから最も適当なものを1つ選び、その記号を書きなさい。

〈資料1〉

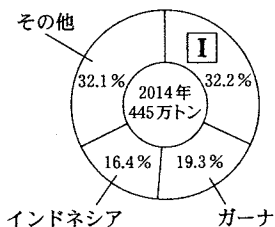


(b) 資料2は、Iで示した国で生産が盛んな農産物の写真、資料3は、その農産物の国別生産割合を示したものである。資料2に示した農産物は何か、その農産物名を書きなさい。

〈資料2〉

カカオの写真

〈資料3〉



〔『世界国勢図会 2017/18』から作成〕

(2) 略地図2について、次の(a), (b)の各問いに答えなさい。

(a) IIとIIIで示した国について、資料4は、挨拶に使われる言葉、資料5は、産業についての説明である。IIIの国の言葉と説明の組み合わせはどれか、下のア～エから最も適当なものを1つ選び、その記号を書きなさい。

〈資料4〉 挨拶に使われる言葉(言語系統)

- A. Guten Morgen (ゲルマン系言語)
B. Bonjour (ラテン系言語)

〈資料5〉 産業についての説明

- a. EU加盟国の中で農業生産額が最も高い。
b. EU加盟国の中で工業生産額が最も高い。

- 〔ア. 言葉—A 説明—a イ. 言葉—A 説明—b〕
〔ウ. 言葉—B 説明—a エ. 言葉—B 説明—b〕

(b) オで示した町では、夏になると、太陽が一日中沈まなかつたり、沈んでも暗くならなかつたりする時期がある。太陽が沈んでも暗くならない現象のことを何というか、その名称を漢字で書きなさい。

(3) 略地図3について、次の(a), (b)の各問いに答えなさい。

(a) Ⅳで示した国を通るあ、い^{いせん}で示した緯線のうち、赤道を示しているものと、Ⅳの国で主に使われる言語の組み合わせはどれか、次のア～エから最も適当なものを1つ選び、その記号を書きなさい。

- {

ア. 赤道—あ	言語—スペイン語	イ. 赤道—い	言語—スペイン語
ウ. 赤道—あ	言語—ポルトガル語	エ. 赤道—い	言語—ポルトガル語

 }

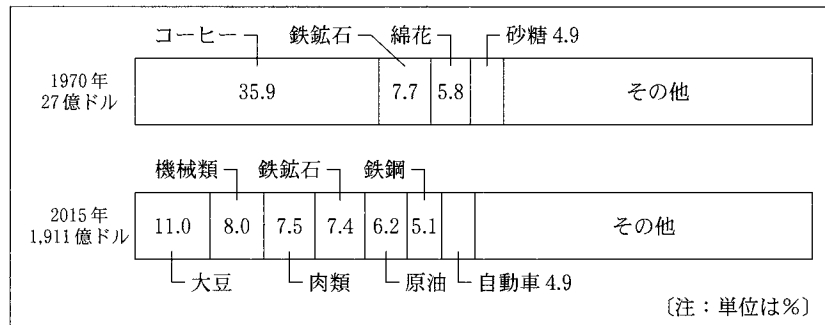
(b) 資料6, 資料7は、Ⅳで示す(資料6) Ⅳの国の貿易相手上位4か国の輸出入額割合

した国の貿易についてまとめたものの一部である。Ⅳの国について、資料6, 資料7から読み取れることを正しく述べたものはどれか、下のア～キから適当なものを2つ選び、その記号を書きなさい。

1970年 輸出総額 27億ドル		1970年 輸入総額 28億ドル	
輸出相手国	割合	輸入相手国	割合
アメリカ合衆国	24.7%	アメリカ合衆国	32.3%
西ドイツ	8.6%	西ドイツ	12.6%
イタリア	7.2%	日本	6.3%
アルゼンチン	6.8%	アルゼンチン	6.0%

2015年 輸出総額 1,911億ドル		2015年 輸入総額 1,714億ドル	
輸出相手国	割合	輸入相手国	割合
中国	18.6%	中国	17.9%
アメリカ合衆国	12.7%	アメリカ合衆国	15.6%
アルゼンチン	6.7%	ドイツ	6.1%
オランダ	5.3%	アルゼンチン	6.0%

(資料7) Ⅳの国の主要輸出品の割合



(資料6, 資料7は, UN Comtrade ほかから作成)

- {
 - ア. 1970年には、日本向けの輸出額がアルゼンチン向けの輸出額を上まわっていた。
 - イ. 1970年には、コーヒーに依存したモノカルチャー経済だったが、その後重化学工業が発展した。
 - ウ. 2015年には、中国が最大の貿易相手国であり、中国に対して赤字になっている。
 - エ. 2015年には、EU加盟国との輸出入総額は全体の5%以下になっている。
 - オ. 1970年と2015年を比べると、鉄鉱石の輸出額はほとんど変わっていない。
 - カ. 1970年と比べて2015年は、輸出入総額は50倍以上になり、貿易黒字になっている。
 - キ. 1970年と比べて2015年は、貿易相手上位2か国の輸出入総額に占める割合は増えている。
 }

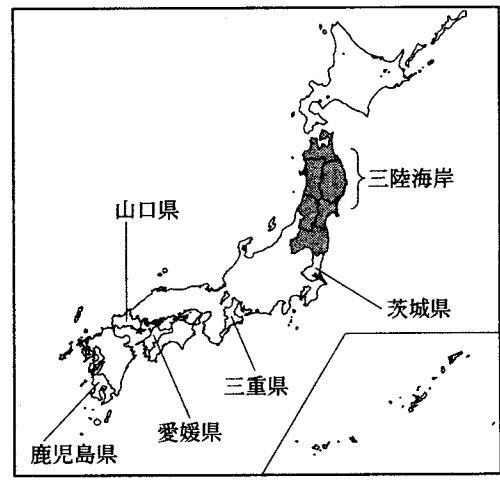
次のページへ→

2 次の略地図を見て、あとの各問いに答えなさい。(9点)

(1) 略地図に ● で示した東北地方には、地域 (略地図)

の伝統に根差した各地の祭りがあり、近年、観光資源となっている。資料1は、1980年に国の重要無形民俗文化財に指定された、ねぶた祭のまつり写真である。資料1に示したねぶた祭が開催される県はどこか、その県名を漢字で書きなさい。

(資料1)



ねぶた祭の写真

(『日本国勢協会 2018/19』ほかから作成)

(2) 略地図に示した茨城県、山口県、愛媛県、三重県について、資料2は、面積、野菜の産出額、果実の産出額、化学工業の製造品出荷額を示したものである。資料2のA～Cにあてはまる県名の組み合わせはどれか、下のア～カから最も適当なものを1つ選び、その記号を書きなさい。

(資料2)

	面積 (km ²)	野菜の産出額 (億円)	果実の産出額 (億円)	化学工業の製造品出荷額 (億円)
A	5,676	203	497	3,455
B	6,112	134	41	16,458
C	6,097	1,890	127	14,941
三重県	5,774	153	74	13,695

(注：数値は2015年のもの。ただし、化学工業の製造品出荷額は2014年のもの。)
(『データでみる県勢 2018』ほかから作成)

- ア. A—山口県 B—茨城県 C—愛媛県
- イ. A—山口県 B—愛媛県 C—茨城県
- ウ. A—愛媛県 B—茨城県 C—山口県
- エ. A—愛媛県 B—山口県 C—茨城県
- オ. A—茨城県 B—山口県 C—愛媛県
- カ. A—茨城県 B—愛媛県 C—山口県

(3) 略地図に示した鹿児島県について、次の(a), (b)の各問いに答えなさい。

(a) 鹿児島県の農業について述べた文はどれか、次のア～エから最も適当なものを1つ選び、その記号を書きなさい。

- ア. 飼育頭数全国1位の豚をはじめ、鶏や肉牛の飼育が盛んであり、茶の生産量も全国有数である。
- イ. 日本最大級の砂丘が広がり、なしやメロン、らっきょうの栽培が盛んである。
- ウ. 施設園芸農業が盛んで、夜間に照明を当てて生長を遅らせる方法で、菊の生産量は全国1位となっている。
- エ. 泥炭地に農業に適した土を運び入れて土地を改良し、全国有数の米の生産地になっている。

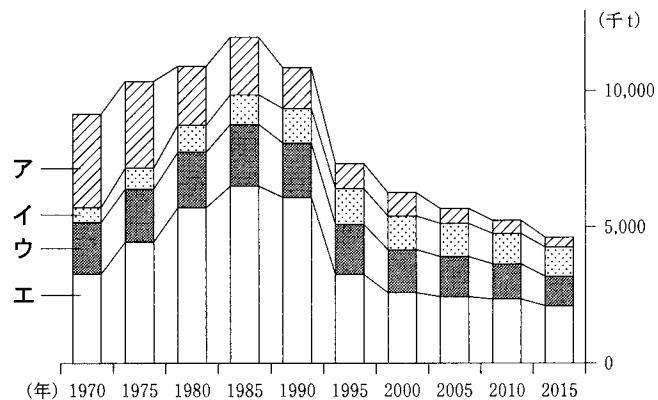
(b) 鹿児島県で見られる、火山活動による噴出物が積み重なってできた台地を何というか、その名称を書きなさい。

(4) ひろとさんは、略地図に示した三陸海岸の沖で漁業が盛んなことに興味を持ち、日本の漁業について調べ、資料3、資料4、資料5にまとめた。これらを見て、次の(a), (b)の各問いに答えなさい。

(a) 資料3のア～エは、遠洋漁業、沖合漁業、沿岸漁業、養殖業のいずれかである。養殖業にあてはまるものはどれか、最も適当なものを1つ選び、その記号を書きなさい。

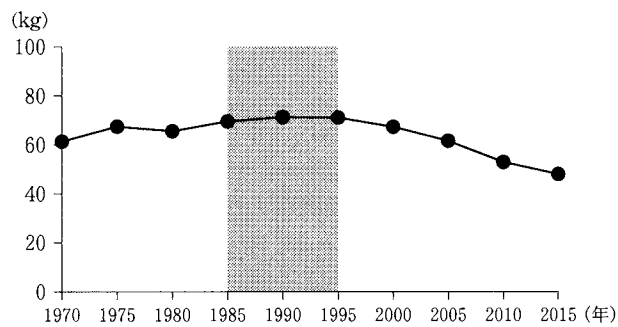
(b) 1985年から1995年まで、資料3に示した日本の漁獲量は減少しているのに対して、資料4に示した1人あたりの魚介類消費量が減少していないのはなぜか、その理由として考えられることを、資料5から読み取れることをもとにして、書きなさい。

〈資料3〉 日本の漁業種類別漁獲量

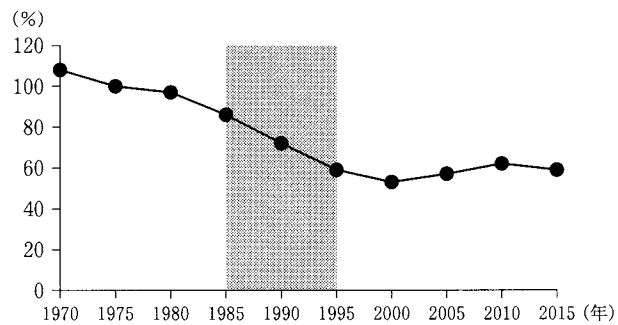


(『数字でみる日本の100年』ほかから作成)

〈資料4〉 日本の1人あたりの魚介類消費量



〈資料5〉 日本の魚介類の自給率



(資料4、資料5は、農林水産省「食料需給表」から作成)

次のページへ→

- 3 次の表のA～Eは、けんとさんの学級で、各時代における人・物資の交流や交通の発達について、学習した内容をまとめたものの一部である。これを見て、あとの各問いに答えなさい。
(9点)

A	平清盛は、中国との貿易を進めるために、瀬戸内海の航路を整備し、兵庫の港を整えた。
B	西ヨーロッパでは、11世紀から始まった十字軍の遠征の影響により、イスラム世界との交流が促進された。
C	南蛮貿易では、ポルトガルやスペインの商船によって、ヨーロッパや中国の品物が輸入され、日本からは主に銀が輸出された。
D	江戸を中心に五街道が整備され、参勤交代の大名や商人、飛脚がゆきかい、江戸は18世紀はじめには人口100万人を数え、国内最大の消費地になった。
E	明治時代、日本では軽工業を中心に、産業革命の時代をむかえ、製品をアメリカ等に輸出した。

- (1) Aについて、平清盛が中国との貿易を進めたときの中国の王朝を何というか、次のア～エから最も適当なものを1つ選び、その記号を書きなさい。

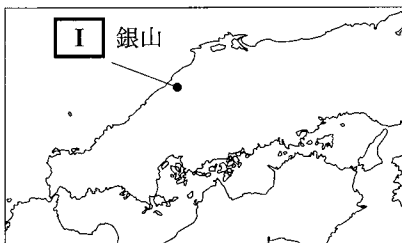
[ア. 漢 イ. 唐 ウ. 宋 エ. 明]

- (2) Bについて、十字軍の遠征の影響により、14世紀に西ヨーロッパで起きたことについて述べた文はどれか、次のア～エから最も適当なものを1つ選び、その記号を書きなさい。

ア. ローマ帝国は、キリスト教徒を迫害したが、その後、キリスト教を国の宗教として認めた。
 イ. 古代ギリシャやローマの文化を手がかりに、人間のいきいきとした姿が文学や美術で描かれ始め、ルネサンス(文芸復興)が開いた。
 ウ. バスコ・ダ・ガマの船隊がインドに到達して、ヨーロッパとインドが初めて海路で直接つながった。
 エ. カトリック教会内部の改革運動が盛んになり、イエズス会は、勢力回復のためにアジアやアメリカなどにキリスト教を伝えた。

- (3) Cについて、資料1は、16世紀のヨーロッパでも知られていた日本の銀山の場所を示した略地図である。資料1に示したI銀山は、2007年に世界文化遺産に登録された。資料1に示したIにあてはまる地名は何か、次のア～エから最も適当なものを1つ選び、その記号を書きなさい。

〈資料1〉



[ア. 足尾 イ. 生野
 ウ. 石見 エ. 別子]

(4) Dについて、次の(a), (b)の各問いに答えなさい。

(a) 下線部①について、資料2は、1635年に幕府が出した法令を、現代語訳したものの一部である。資料2に示した法令を何というか、その名称を書きなさい。

〈資料2〉

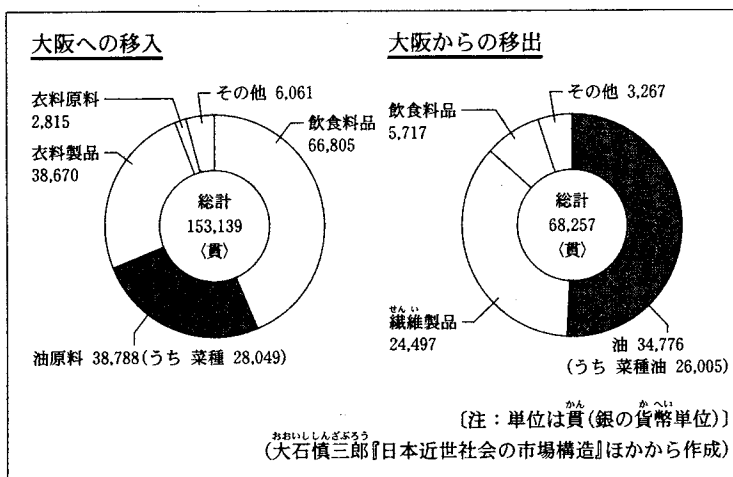
大名が国元と江戸とを参勤交代するよう定めるものである。毎年四月中に参勤せよ。……

(b) 下線部②について、けんとうさんは、江戸が国内最大の消費地であったことを知り、江戸の人々の生活を支える品物の中で、あかり用の燃料について調べ、資料3、資料4、資料5にまとめた。江戸のあかり用の燃料はどのように供給されたか、その1つとして考えられることを、資料3、資料4、資料5から読み取れることにふれて、「加工」という言葉を用いて書きなさい。


〈資料3〉 菜種油と江戸時代の人々の生活との関連について

江戸時代には、あかり用の燃料の1つとして菜種油が使われた。菜種油は、油菜の種子(菜種)を乾燥させ、蒸したものをしぼりとってできる。菜種は、あかり用の油原料として、需要が高まった。

〈資料4〉 大阪における農産物の移出入(1714年)



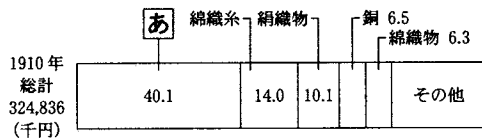
〈資料5〉 江戸に移入された菜種油に占める大阪からの菜種油の割合



[大石慎三郎『享保改革期江戸経済に対する大坂の地位』ほかから作成]

(5) Eについて、資料6は、1910年における、日本の主要な輸出品を示したもの、資料7は、資料6に示した「あ」を作る作業の様子をあらわした写真である。「あ」を作る工業は、主にアメリカ向けの輸出によって発展した。「あ」にあてはまる輸出品は何か、漢字で書きなさい。

〈資料6〉



[注：単位は%]

(『数字でみる日本の100年』から作成)

〈資料7〉

生糸を作る作業の様子の写真

次のページへ→

4 次のカードは、歴史上のできごとについて、ひとみさんの学級のそれぞれの班がまとめたもの
の一部である。これらを見て、あとの各問いに答えなさい。(9点)

<p>【A班】奈良時代に、国家のおこりや天皇の由来などを説明する歴史書や<u>全国の国ごとの記録</u>がまとめられた。^①</p>	<p>【B班】平安時代に、<u>最澄</u>と空海は、新しい仏教の教えを日本に伝えた。^②</p>
<p>【C班】1467年にはじまった戦乱は京都から全国に広がり、<u>地方の社会に新たな動き</u>が始まった。^③</p>	<p>【D班】1854年に、江戸幕府はアメリカと<u>日米和親条約</u>を結んだ。^④</p>
<p>【E班】明治時代に、国民が政治に参加する権利の確立を目指す自由民権運動が進められた。^⑤</p>	<p>【F班】冷戦が終結し、<u>国際社会に変化</u>が起こった。^⑥</p>

(1) 下線部①について、全国の国ごとに、自然、産物、伝説などを記録したものを何というか、その名称を漢字で書きなさい。

(2) 下線部②について、資料1は、ひとみさんが〈資料1〉

まとめたもの的一部分である。資料1の X Y にあてはまる言葉の組み合わせはどれか、次のア～エから最も適当なものを1つ選び、その記号を書きなさい。

最澄は、唐にわたり、仏教を学んだ。その後、比叡山に X を建てて、 Y を広めた。

- | | |
|---|--|
| ア. <input checked="" type="checkbox"/> X — 延暦寺 <input type="checkbox"/> Y — 天台宗 | イ. <input checked="" type="checkbox"/> X — 金剛峯寺 <input type="checkbox"/> Y — 天合宗 |
| ウ. <input checked="" type="checkbox"/> X — 延暦寺 <input type="checkbox"/> Y — 真言宗 | エ. <input checked="" type="checkbox"/> X — 金剛峯寺 <input type="checkbox"/> Y — 真言宗 |

(3) 下線部③について、えいじさんは、近畿・北陸や東海地方で起こった一揆を調べる中で、資料2の旗の写真を見つけた。15世紀後半から16世紀にかけて起こり、資料2の旗と関係がある一揆について述べた文はどれか、次のア～エから最も適当なものを1つ選び、その記号を書きなさい。

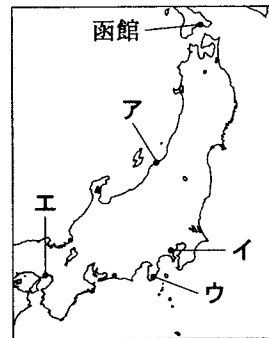
(資料2)

一向一揆の旗
の写真

注：「進めば往生極楽、退けば無間地獄」と書かれている。

- ア. 百姓たちが、不正を働く役人の解任や年貢の引き下げのほか、商品作物の自由な売買などを求めて起こした一揆。
- イ. 武士と農民たちが浄土真宗の信仰で固く結びついて、荘園領主や守護大名に対抗して起こした一揆。
- ウ. 兵になる義務を新たに負った農民が、徴兵に反対して起こした一揆。
- エ. 民衆が、借金の帳消しや売りわたした耕地の返還、生活用品の値下げなどの「世直し」を求めて起こした一揆。

- (4) 下線部④について、条約で定められ、開港したのは、^{はこだて}函館ともう 〈略地図〉
1つどこか、略地図に示したア～エから最も適当なものを1つ選
び、その記号を書きなさい。

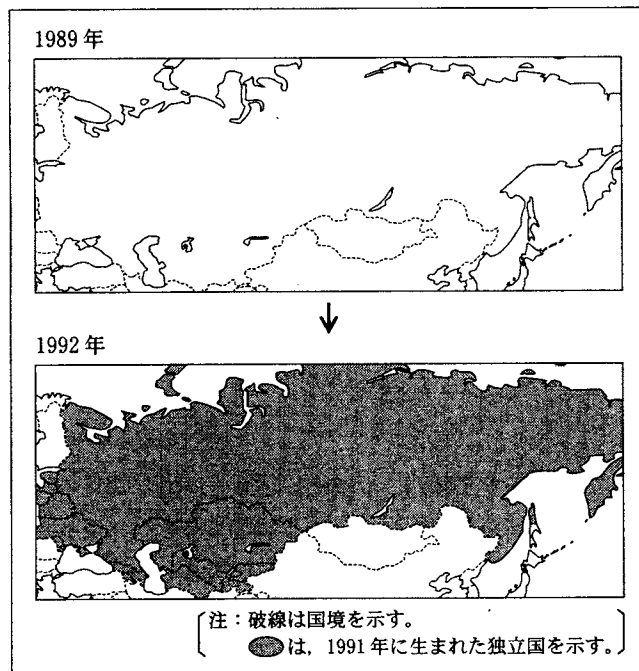


- (5) 下線部⑤について、次のア～エのカードは、明治時代以降日本で起こった、国民が政治に参
加する権利の拡大に関するできごとを示したものである。ア～エのカードを、書かれた内容の
古いものから順に並べると、どのようになるか、その記号を書きなさい。

ア	満 25 歳以上の男子に選挙権を与える普通選挙法が成立した。	イ	初めての女性国会議員が誕生した。
ウ	^{みんせいん} 民権議院設立建白書が政府に提出された。	エ	第 1 回 ^{ていこく} 帝国議会在開かれた。

- (6) 下線部⑥について、資料 3、資料 4、資料 5 は、1989 年から 1992 年までの国際社会の変化
について、F 班が集めた資料の一部である。資料 5 に示したように、1991 年から 1992 年にか
けて、資料 3 の ● で示した地域で国際連合に加盟した国の数が増加したのはなぜか、その
理由として考えられることを、資料 3、資料 4 から読み取れることをもとにして、書きなさい。

〈資料 3〉 ユーラシア大陸の一部における国境の変化を示した 〈資料 4〉 取り払われるレーニン像
略地図



(外務省 Web ページほかから作成)

取り払われるレーニン像
の写真

〈資料 5〉 新たに国際連合に加盟
した国の数

年	新たに国際連 合に加盟した 国の数	資料 3 の ● で 示した地域で国 際連合に加盟し た国の数
1989	0	0
1990	2	0
1991	7	3
1992	13	9

(国際連合広報センター Web ページ
ほかから作成)

次のページへ→

5 右の表は、ゆいかさんの学級で行った公民的分野の調べ学習について、班ごとのテーマをまとめたものである。これを見て、あとの各問いに答えなさい。(14点)

A班	地方財政のしくみ
B班	国会と内閣の関係
C班	社会保障のしくみ
D班	国際連合の目的とはたらき
E班	司法制度改革
F班	人権と共生社会
G班	景気の動きとその対策
H班	グローバル化する経済

(1) A班のテーマについて、地方交付税交付金を説明した文はどれか、次のア～エから最も適当なものを1つ選び、その記号を書きなさい。

- ア. 住民税など、地方公共団体が徴収するお金である。
 イ. 義務教育や公共事業など特定の費用の一部について国が負担するお金である。
 ウ. 住民などから資金を集める地方公共団体の借金である。
 エ. 地方公共団体間の財政格差をおさえるために国から配分されるお金である。

(2) B班のテーマについて、資料(資料1)

1は、たかやさんがまとめたものの一部である。資料1に示したような、内閣が国会の信任に基づき、国会に対して連帯して責任を負うしくみを何というか、その名称を書きなさい。

- ・内閣総理大臣は国会議員の中から、国会によって指名される。
- ・内閣総理大臣は国務大臣を指名するが、その過半数は国会議員でなければならない。
- ・衆議院は内閣を信頼できなければ、内閣不信任の決議を行うことができる。
- ・内閣不信任の決議が可決されると、内閣は10日以内に衆議院の解散をするか、総辞職しなければならない。

(3) C班のテーマについて、資料2は、社会保障の種類とその内容をまとめたものの一部である。資料2のX～Zにあてはまる社会保障の種類のはどれか、下のア～エから最も適当なものを1つ選び、その記号を書きなさい。

(資料2)

社会保障の種類	社会保障の内容
社会福祉	自立することが困難な人々に対して、生活の保障や支援を行う。
X	最低限度の生活を送ることができない人々に対して、生活費などを支給する。
Y	加入者や事業主がかけ金を積み立てておき、病気など必要が生じたとき給付を受ける。
Z	国民の健康の保持・増進を目的に、感染症の予防や下水道の整備などを行う。

- ア. X—社会保険 Y—公衆衛生 Z—公的扶助
 イ. X—社会保険 Y—公的扶助 Z—公衆衛生
 ウ. X—公的扶助 Y—公衆衛生 Z—社会保険
 エ. X—公的扶助 Y—社会保険 Z—公衆衛生

(4) D班のテーマについて、資料3は、紛争を平和的に解決するために、国際連合が行う活動をまとめたものの一部である。資料3にまとめた国際連合が行う活動の略称は何か、次のア～エから最も適当なものを1つ選び、その記号を書きなさい。

(ア. EPA イ. PKO ウ. TPP エ. NPO)

- ・紛争の拡大防止
- ・停戦の監視
- ・選挙の監視

(5) E班のテーマについて、司法制度改革の一環として2009年から始まった、国民が裁判官とともに刑事裁判を行う制度を何というか、その名称を書きなさい。

(6) F班のテーマについて、資料4は、
日本国憲法第12条の一部である。社
会全体の共通の利益を意味する、資料
4の **I** にあてはまる言葉は
何か書きなさい。

〈資料4〉

この憲法が国民に保障する自由及び権利は、国民の不
断の努力によって、これを保持しなければならない。
又、国民は、これを濫用してはならないのであって、常
に **I** のためにこれを利用する責任を負ふ。

(7) G班のテーマについて、資料5は、日本経済が不景気のときに、政府と日本銀行が、それぞ
れ行う政策についてまとめたものの一部である。資料5の **あ** , **い** にあてはまる言葉の
組み合わせはどれか、下のア～エから最も適当なものを1つ選び、その記号を書きなさい。

〈資料5〉

- ・政府は、税率を引き **あ** 。
- ・日本銀行は、市場に出回る通貨量を **い** 。

- ア. **あ** — 上げる **い** — 増やす イ. **あ** — 上げる **い** — 減らす
- ウ. **あ** — 下げる **い** — 増やす エ. **あ** — 下げる **い** — 減らす

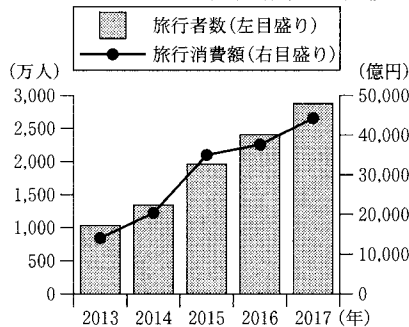
(8) H班のテーマについて、次の(a), (b)の各問いに答えなさい。

(a) 各国が、得意分野の商品を生産し、貿易によって交換し合うことを何というか、その名称
を漢字で書きなさい。


(b) ゆいかさんは、日本では近年、海外からの旅行者が増え、日本経済に好影響を与えている
ことを知り、いくつかの資料を集めた。資料6、資料7、資料8、資料9はその一部であ
る。海外からの旅行者が増えたことで、旅行消費額が増えたことのほかに、日本経済に好影
響を与えている要因は何か、その1つとして考えられることを、資料8、資料9から読み取
れることをもとにして、書きなさい。

※ 旅行により日本国内に支払われた金額。

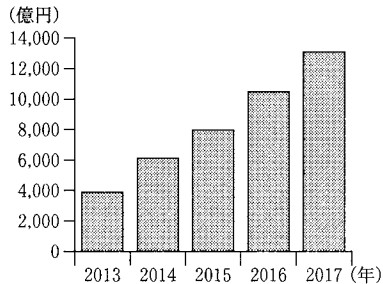
〈資料6〉 訪日外国人旅行者数と訪日
外国人旅行消費額の推移



〈資料7〉 訪日外国人旅行者の内訳(2017年)



〈資料8〉 中国におけるインターネット
取引による日本からの商
品購入額の推移



〈資料9〉 中国におけるインターネット取引で日本
の商品を購入する理由(2017年)

中国内では販売されていない製品だから	44.4%
日本に旅行したときに購入して気に入った製品だから	40.4%
価格が安いから	30.1%
注文してから商品が届くまでの時間が短いから	29.8%

〈資料6、資料7、資料8、資料9は、観光庁「観光白書」
ほかから作成

—おわり—